

# LA NUMERATION (COURS 2 EME ANNEE)

## I- Les Nombres de 0 à 10 :

**Exercice 1 :** Compte de 0 à 10.

**0 - 1 - 2 - 3 - 4 - 5 - 6 - 7 - 8 - 9 - 10.**

**Exercice 2 :** Ecris en chiffres et en lettres de 0 à 10.

0 : Zéro

6 : Six

1 : Un

7 : Sept

2 : Deux

8 : Huit

3 : Trois

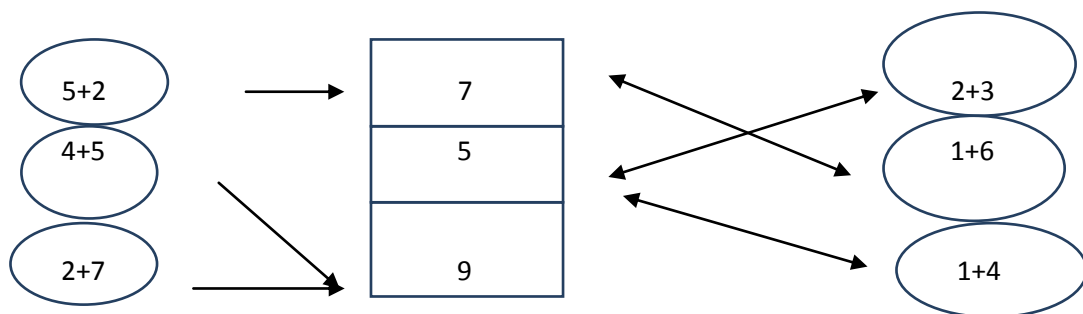
9 : Neuf

4 : Quatre

10 : Dix

5 : Cinq

**Exercice 3 :** Relie chaque étiquette au nombre qui lui est égal.



**Exercice 4 :** Complète avec  $>$ ,  $<$  ou  $=$

$8 > 3$

$1 + 6 > 4$

$7 + 1 = 6 + 1$

$5 > 4$

$5 < 5+1$

$1 + 4 = 5$

$3 > 2$

$2 + 3 > 2 + 2$

$5 + 4 = 4 + 5$

II- **Les Nombres de 10 à 20 :**

**Exercice 1 :** Compte de 0 à 20

**1 - 2 - 3 - 4 - 5 - 6 - 7 - 8 - 9 - 10 - 11 - 12 - 13 - 14 - 15 - 16 - 17 - 18 - 19 - 20.**

**Exercice 2 :** Ecris en lettres :

10 : Dix

17 : Dix-sept

11 : Onze

18 : Dix-huit

12 : Douze

19 : Dix-neuf

13 : Treize

20 : Vingt

14 : Quatorze

16 : Seize

**Exercice 2 :** Ecris en chiffres :

Zéro : 0

Sept : 7

Un : 1

Huit : 8

Deux : 2

Neuf : 9

Trois : 3

Quatre : 4

Cinq : 5

Six : 6

**Exercice 3 :** Complète le tableau :

<b>12</b>	1 dizaine et 2 unités	<b>10 + 2</b>
<b>15</b>	1 dizaine et 5 unités	<b>10 + 5</b>
<b>19</b>	1 dizaine et 9 unités	<b>10 + 9</b>
<b>13</b>	1 dizaine et 3 unités	<b>10 + 3</b>

**Exercice 4 :** Décompose :

$$14 = 10 + 4$$

$$26 = 20 + 6$$

$$27 = 20 + 7$$

$$19 = 10 + 9$$

**Exercice 5 :** Complète :

$$7 + 3 = 10$$

$$10 + 9 = 19$$

$$10 + 5 = 15$$

$$10 + 4 = 14$$

**III- Les Nombres jusqu'à 29 :**

**Exercice 1 :**

Complète la bande

20	21	22	23	24	25	26	27	28	29
----	----	----	----	----	----	----	----	----	----

**Exercice 2 :** Complète.

$$10 + 10 + 9$$



$$20 + 9$$



$$29$$

$$10 + 9 + 10$$



$$10 + 19$$



$$29$$

$$20 + 10 + 9$$



$$30 + 9$$



$$39$$

**Exercice 3 :** Compare  $<$ ,  $>$  ou  $=$

$$25 > 15$$

$$10 + 10 + 9 < 10 + 10 + 19$$

$$29 < 39$$

$$25 = 10 + 15$$

$$28 = 28$$

$$19 + 20 = 10 + 10 + 10 + 9$$

#### IV- Les Nombres jusqu'à 39 :

**Exercice 1 :** Complète la ligne :

**29 – 30 - 31- 32 – 33 – 34 - 35 - 36 - 37- 38 – 39**

**Exercice 2 :** Ecris en lettres :

29 : Vingt-neuf

35 : Trente- cinq

30 : Trente

36 : Trente-six

31 : Trente et un

37 : Trente- sept

32 : Trente-deux

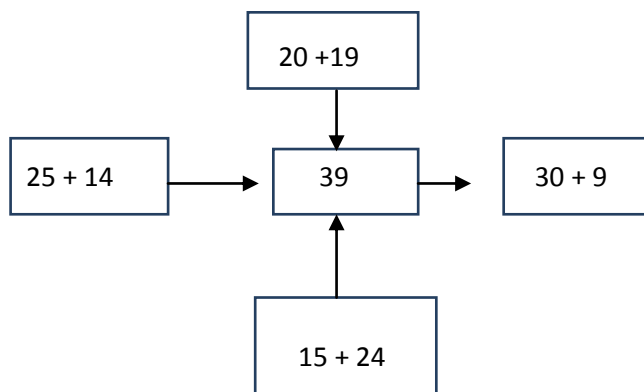
38 Trente-huit

33 : Trente-trois

39 : Trente -neuf

34 : Trente quatre

**Exercice 3 :** Complète les égalités :



**V- Les Nombres de 0 à 49 :**

<b>42</b>	Quarante-deux	4 dizaines et 2 unités	<b>40 + 2</b>
<b>36</b>	Trente-six	3 dizaines et 6 unités	<b>30 + 6</b>
<b>45</b>	Quarante-cinq	4 dizaines et 5 unités	<b>40 + 5</b>
<b>40</b>	Quarante	4 dizaines et unités	<b>40 + 0</b>
<b>39</b>	Trente-neuf	3 dizaines et 9 unités	<b>30 + 9</b>
<b>47</b>	Quarante-sept	4 dizaines et 7 unités	<b>40 + 7</b>
<b>49</b>	Quarante-neuf	4 dizaines et 9 unités	<b>40 + 9</b>

**Exercice 2 :** Calcule :

$$10 + 10 + 10 + 19 = 49$$

$$20 + 20 + 9 = 49$$

$$15 + 14 + 10 = 39$$

$$25 + 10 = 35$$

**Exercice 3 :** Compare à l'aide  $<$ ,  $>$  ou  $=$

$$23 > 13$$

$$20 + 20 + 9 = 30 + 19$$

$$45 > 35$$

$$39 > 10 + 10 + 9$$

$$29 < 49$$

$$10 + 29 > 10 + 19$$

## VI- Les Nombres de 0 à 59 :

**Exercice 1 :** Ecris en lettres :

40 : Quarante

48 : Quarante-huit

50 : Cinquante

55 : Cinquante-cinq

59 : Cinquante-neuf

**Exercice 2 :** Ecris en chiffres :

Quarante - sept : 47

Quarante - quatre : 44

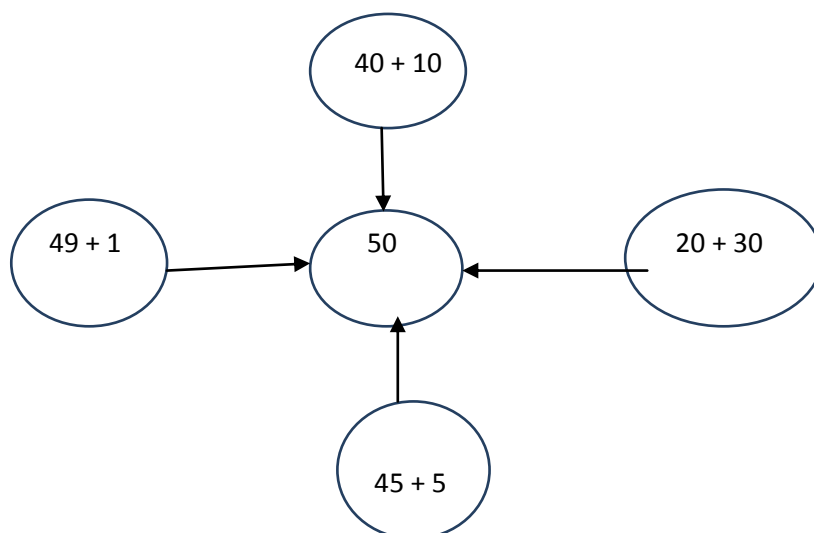
Cinquante - six : 56

Trente - trois : 33

**Exercice 3 :** Continue

45	40	35	30	25	20	15	10
----	----	----	----	----	----	----	----

**Exercice 4 :** Complète :



**Exercice 5 :** Range dans l'ordre croissant.

25 - 16 - 38 - 29 - 47 - 59 - 57.

**Réponses :**

**16 - 25 - 29 - 38 - 47 - 57 - 59**

**VII- Les Nombres de 0 à 69 :**

**Exercice 1 :** Ecris en lettres :

60 : Soixante

61 : Soixante - un

62 : Soixante - deux

63 : Soixante - trois

64 : Soixante - quatre

**Exercice 2 :** Ecris en chiffres :

Soixante - cinq

Soixante - six

Soixante - sept

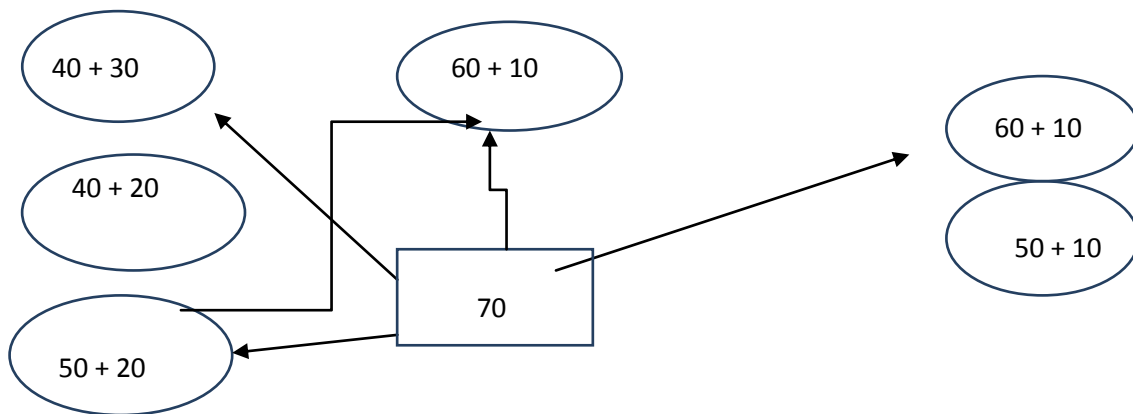
Soixante - huit

Soixante - neuf

**Exercice 3 :** Complète le tableau.

7 dizaines et 5 unités	75
5 dizaines et 5 unités	55
3 dizaines et 8 unités	38
6 dizaines et 9 unités	69

**Exercice 4 :** Relie 70 aux nombres qui lui sont égaux.



### VIII- Les Nombres de 0 à 79 :

**Exercice 1 :** Ecris en chiffres.

Soixante - dix

Soixante - onze : 71

Soixante - douze : 72

Soixante - treize : 73

Soixante - quatre : 74

**Exercice 2 :** Ecris en lettres :

75 : Soixante - quinze

76 : Soixante - seize

77 : Soixante – dix - sept

78 : Soixante - huit

79 : Soixante - neuf

**Exercice 3 :** Relie les nombres qui sont égaux :

Soixante-cinq	68	$60 + 8$
Soixante-huit	74	$60 + 14$
Soixante-quatorze	65	$60 + 5$
Soixante-dix-neuf	79	$70 + 9$
Soixante-douze	72	$60 + 12$

## IX- Les Nombres de 0 à 89 :

**Exercice 1 :** Compte de 10 en 10 de 0 à 80.

**0 - 10 - 20 - 30 - 40 - 50 - 60 - 70 - 80.**

**Exercice 2 :** Range par ordre croissant.

15 – 57 – 42 – 76 - 89 – 79 – 85 – 10

**Réponse :**

**10 – 15 – 42 – 57 – 76 – 79 – 85 - 89**

**Exercice 3 :** Ecris en lettres.

80 : Quatre - vingt

81 : Quatre – vingt -et- un

82 : Quatre – vingt - deux

83 : Quatre – vingt - trois

**Exercice 4 :** Ecris en chiffres :

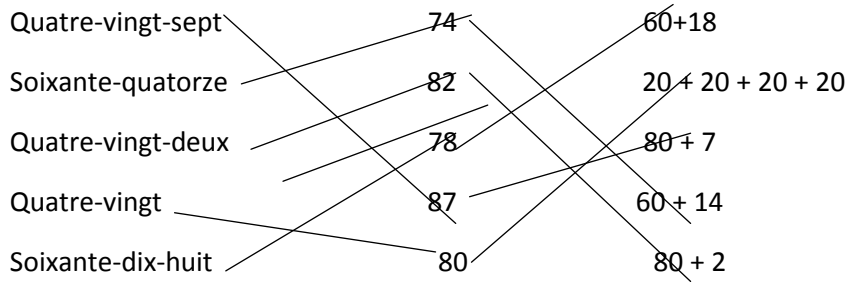
Quatre-vingt-huit : 88

Quatre-vingt-neuf : 89

Quatre-vingt-six : 86

Quatre-vingt-sept : 87

**Exercice 5 :** Relie les nombres égaux.



**X- Les Nombres de 0 à 100 :**

**Exercice 1 :** Compte de 10 en 10 de 0 à 100 puis de 100 à 0

**Réponse :**

**0 - 10 - 20 - 30 - 40 - 50 - 60 - 70 - 80 - 90 - 100.**

**100 - 90 - 80 - 70 - 60 - 50 - 40 - 30 - 20 - 10 - 0.**

**Exercice 2 :** Ecris en lettres :

90 : Quatre – vingt - dix

91 : Quatre – vingt-et - onze

92 : Quatre – vingt - douze

93 : Quatre – vingt - treize

94 : Quatre – vingt - quatorze

100 : Cent.

**Exercice 3 :** Complète :

$$99 = 90 + 9$$

$$89 = 80 + 9$$

$$75 = 70 + 5$$

$$68 = 60 + 8$$

$$56 = 50 + 6$$

**Exercice 4 :** Compare à l'aide  $<$ ,  $>$  ou  $=$

$$89 < 99$$

$$99 + 1 = 100$$

$$78 < 87$$

$$85 < 40 + 50$$

$$65 > 56$$

$$30 + 40 < 40 + 35$$